

FUVEST
2004
Segunda Fase

Prova de Geografia

06/01/2004

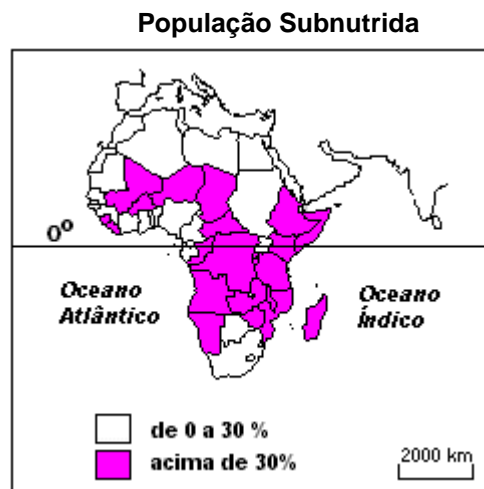
Q.01

Considerando a rede mundial de computadores, inovação tecnológica contemporânea das mais importantes, explique as afirmações.

- a) A integração econômica global é facilitada pelo uso das mesmas técnicas...
- b) ... contudo, integrar não significa incluir a todos.

Q.02

Analise o mapa.



Fonte: Atlas Geográfico Escolar, IBGE, 2002.

- a) Descreva o mapa.
- b) Explique as diferenças regionais.

Q.03

Apresente e explique uma característica

- a) dos primórdios da industrialização na Europa.
- b) dos novos espaços industriais europeus.

Q.04

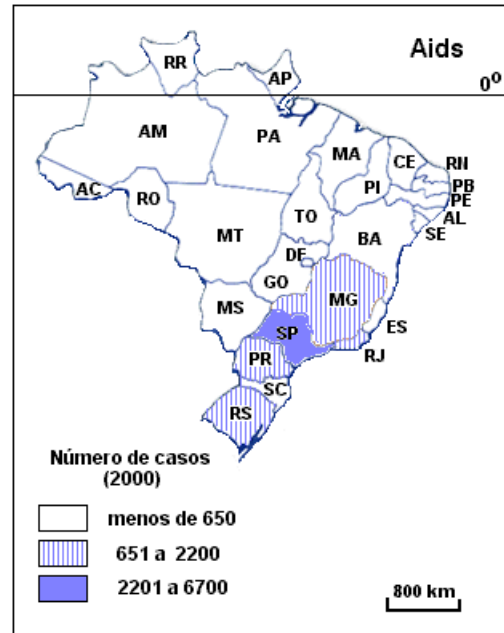
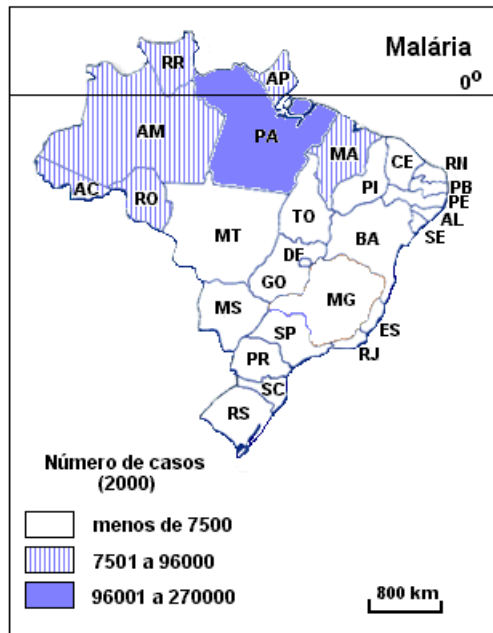
No livro *Xogun* (James Clavel, 1986), ficção ambientada no século XVI, existe uma passagem na qual o navegador inglês Blackthorne, recém-chegado ao Japão, fez um mapa-mundi na areia, tentando explicar ao líder Toranaga o lugar de onde veio, o caminho que percorreu, cruzando o Oceano Atlântico, passando pelo extremo sul do continente americano, cruzando o Oceano Pacífico, até chegar à ilha do Japão. Blackthorne conta a Toranaga que conseguiu um **portulano** português, uma espécie de **mapa secreto**, para poder passar pelo estreito de Magalhães. Toranaga quis continuar a conversa, pois ficou impressionado com a importância dos portulanos e com o tamanho diminuto do Japão. Percebeu imediatamente que Blackthorne tinha informações interessantes a ele.

Inspirando-se na passagem relatada,

- a) explique como a localização geográfica continua sendo conhecimento estratégico para a geopolítica contemporânea.
- b) associe o texto e a explicação à situação atual da Palestina.

Q.05

Observe os mapas de Ocorrência de Endemias:



Adaptação Atlas Geográfico Escolar, IBGE, 2002

Relacione as condições geográficas com a ocorrência das doenças representadas nos mapas.

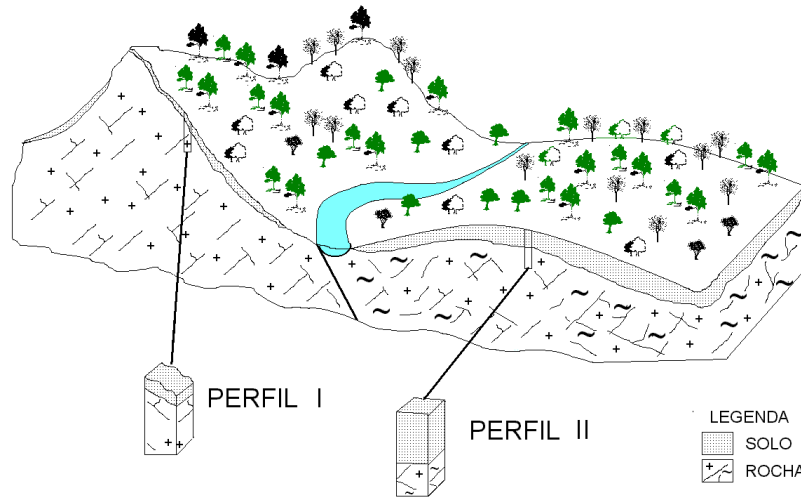
Q.06

O processo de globalização econômica e financeira envolve, de diferentes formas, vários países. Com base nessa afirmação:

- Aponte uma característica positiva e outra negativa desse processo em relação ao Brasil.
- Explique-as.

Q.07

Nos climas tropicais úmidos, são comuns os solos espessos. Entretanto, alguns fatores naturais podem mudar essa tendência geral. Observe a figura abaixo, representativa dessas áreas.



Adaptado de LEPSCH, 2001

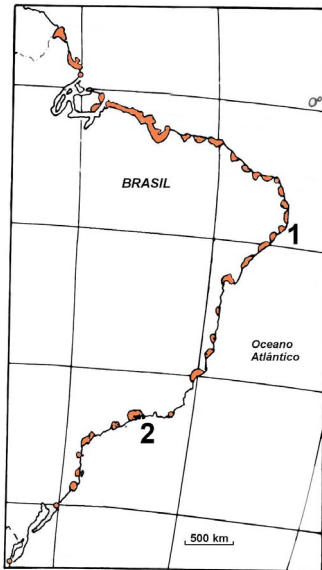
- Cite dois fatores que causam a diferença de espessura do solo entre o perfil I e II.
- Explique um dos fatores citados.

Q.08

- Identifique as duas maiores áreas urbanas da região Norte do país.
- Apresente e explique uma característica física e uma característica econômica de cada área citada.

Q.09

Observe o cartograma e a figura abaixo.



- Identifique e caracterize o ecossistema aqui representado, quanto aos aspectos físicos, relacionando-os à formação vegetal e à fauna.
- Apresente uma atividade humana que degrada este ecossistema para as regiões 1 e 2.

Q.10

“Evidentemente que hoje a reforma agrária que sonhamos não é mais a reforma agrária clássica capitalista (...). Hoje, o desenvolvimento das forças produtivas na agricultura e na sociedade e o modelo agrícola que foi adotado exigem o que chamamos de **reforma agrária de novo tipo** (...) em que não é mais suficiente apenas dividir a terra, lotear em parcelas e botar o pobre em cima e que se vire. Cinquenta anos atrás, ele se viraria, mas hoje não consegue mais”.

João Pedro Stedile, um dos coordenadores nacionais do MST. Entrevista à revista *Caros Amigos*, n. 18, p. 05, Set 2003.

Caracterize essa “**reforma agrária de novo tipo**” a que o texto se refere.