


Q.01



Géographie 2^e, Hachette, 2000.

- Análise os momentos I e II da charge do continente africano.
- Como os momentos I e II podem ser caracterizados na África do Sul?

Q.02

Qual é o papel da ONU

- na resolução de conflitos sócio-econômicos mundiais? Dê um exemplo.
- no controle da expansão do uso da tecnologia nuclear? Dê um exemplo.

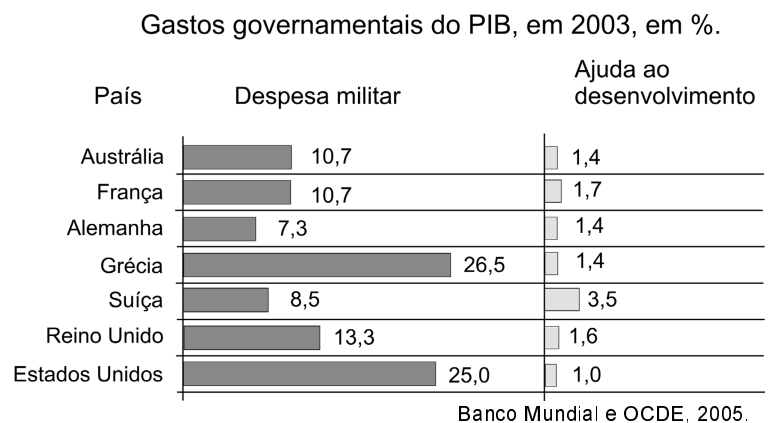
Q.03

Segundo o documento *Avaliação Ecológica do Milênio* (ONU, 2005), resultado de pesquisas de 1350 cientistas de 95 países, o mundo caminha para um colapso ambiental. O trabalho concluiu que o maior problema da degradação ambiental não é o crescimento populacional.

Explique as duas afirmações, considerando a exploração florestal e mineral. Dê exemplos.

Q.04

Responda a partir do gráfico:



- Qual desses países teve mais gastos militares em relação ao PIB, em 2003? Justifique.
- Qual país repassou mais recursos, em relação ao PIB, a países pobres em 2003? Justifique.
- Relacione a busca de paz mundial aos dados da tabela.

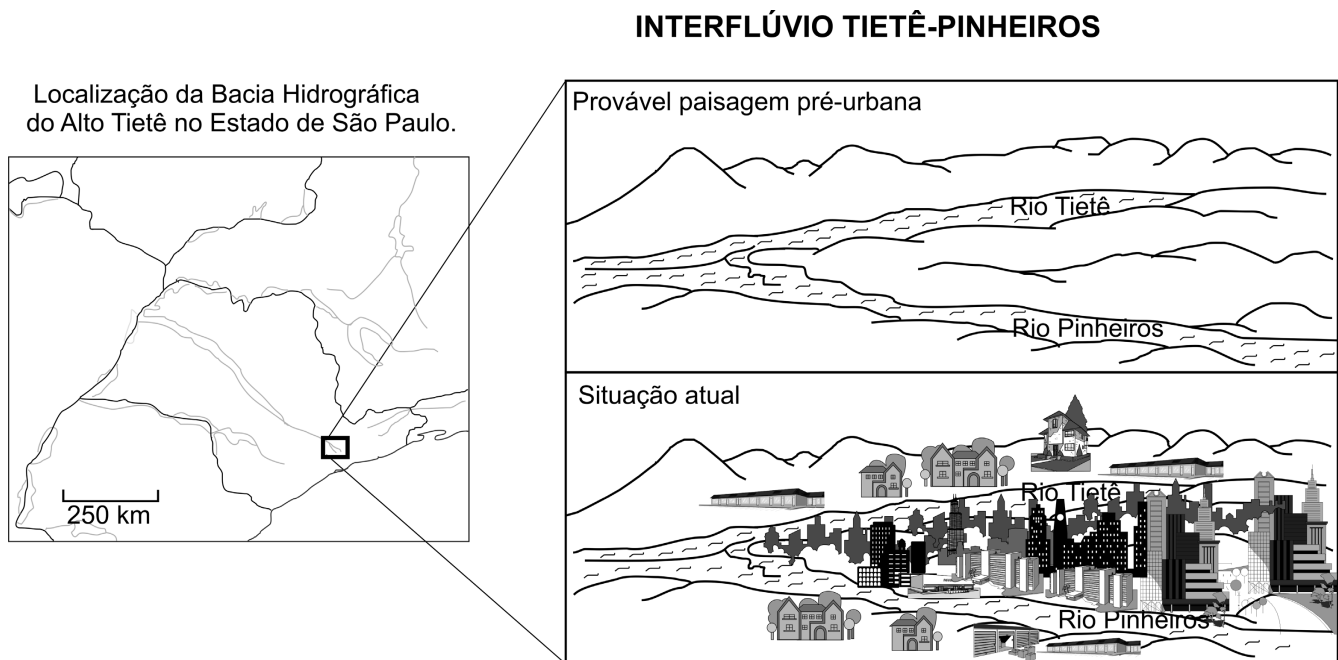
Q.05

Nos últimos anos, dois tipos de *eventos naturais* de alta magnitude chegaram a atingir um grande número de pessoas e regiões costeiras no globo. Um deles ocorreu na Ásia, em dezembro de 2004, e o outro tipo, mais freqüente, no sul dos Estados Unidos, no 2º semestre de 2005.

- Identifique esses dois tipos de eventos e compare-os quanto às suas causas e efeitos.
- A partir dos casos referidos, escolha um deles como exemplo e avalie a importância das ações governamentais na prevenção de seus efeitos catastróficos, bem como os diferentes tipos de assistência prestados à população.

Q.06

Considere o mapa e as figuras.



- Explique por que a localização geográfica da área urbana da metrópole de São Paulo amplia os conflitos de uso da água.
- Caracterize a situação de abastecimento de água na região metropolitana de São Paulo, levando em consideração a *demanda e os recursos disponíveis*.

Q.07

O mapa distingue áreas onde predominam dois tipos de turismo no Brasil.



Simielli, 2004.

- Identifique os tipos.
- Cite um exemplo de cada tipo e explique suas ocorrências.
- Aponte e explique um impacto sócio-ambiental de cada exemplo citado.

Q.08

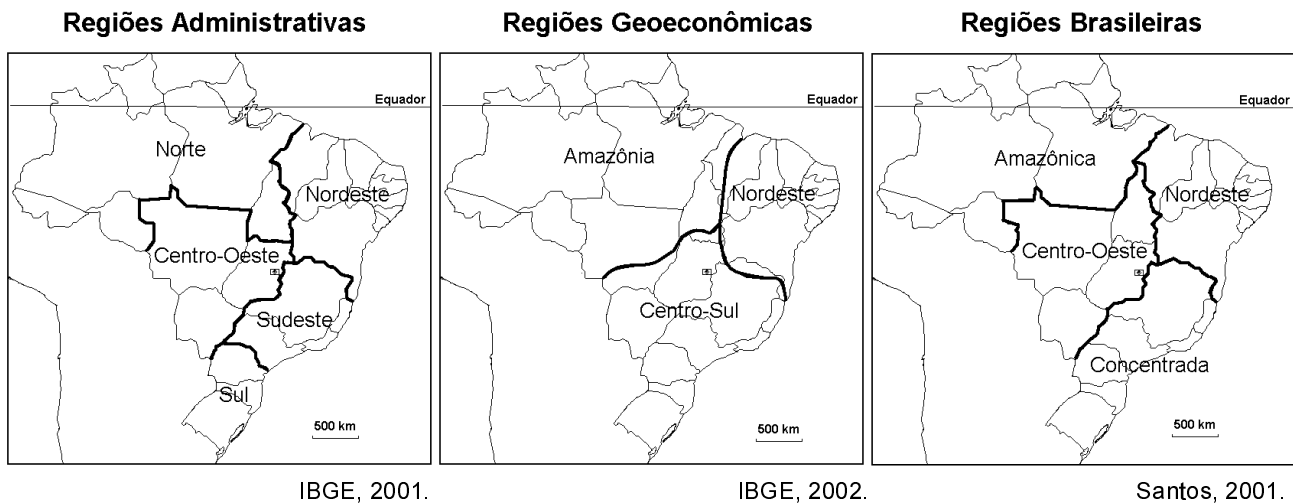
Observe o mapa.

Foco original da febre aftosa no Brasil.
(segundo semestre de 2005)



- Identifique o estado da federação brasileira em que apareceu recentemente o foco original da aftosa. Indique e explique duas possíveis causas do aparecimento desse foco.
- Aponte conseqüências sócio-econômicas, uma interna e outra externa, que tenham resultado dessa ocorrência. Fundamente sua resposta.


Q.09



A partir dos mapas,

- comente os critérios utilizados para o estabelecimento de cada uma das três regionalizações do Brasil.
- compare as regiões Sudeste, Centro-Sul e a Região Concentrada quanto à industrialização.

Q.10



Desenho de Percy Lau. IBGE, 1970.

- Identifique a formação vegetal representada e sua área de ocorrência original.
- Considerando ao menos um fator de ordem física, explique por que essa formação tem ocorrências fora de sua área nuclear.
- Identifique três das principais atividades econômicas que promoveram a substituição de tal formação vegetal.