

PROVA DE CONHECIMENTOS ESPECÍFICOS E REDAÇÃO

1.º DIA – 20.12.2009

CIÊNCIAS HUMANAS
(QUESTÕES 01-12)

- ✓ Verifique se estão corretos seu nome e número de inscrição impressos na capa deste caderno.
- ✓ Assine com caneta de tinta azul ou preta apenas no local indicado.
- ✓ Esta prova contém 12 questões discursivas.
- ✓ A prova terá a duração total de 4h30.
- ✓ A prova deve ser feita com caneta de tinta azul ou preta.
- ✓ A resolução e a resposta de cada questão devem ser apresentadas no espaço correspondente. Não serão consideradas questões resolvidas fora do local indicado.
- ✓ Os rascunhos não serão considerados na correção.
- ✓ O candidato somente poderá entregar este caderno e sair do prédio depois de transcorridas 2h15, contadas a partir do início da prova.

**NÃO
ESCREVA
NESTE
ESPAÇO**

Questão 01

No século XVIII, surgiram novas ideias que despertaram o interesse de muitos adeptos que rejeitavam as tradições e almejavam explicações racionais para compreender os fenômenos naturais e sociais. Como ficaram conhecidos os pensadores desse período e de que modo esses pensadores influenciaram monarcas e ministros europeus?

RESOLUÇÃO

CORREÇÃO

REVISÃO

Questão 02

A pecuária, ao longo de praticamente todo período colonial brasileiro, foi uma atividade econômica sempre secundária, mas sempre em expansão, ao contrário do que ocorreu com a agricultura canieira e com a mineração aurífera. Explique, com relação à pecuária, o porquê destas características.

RESOLUÇÃO

CORREÇÃO

REVISÃO

Questão 03

Leia atentamente o texto.

O período de pré-independência assistiu ao nascimento de uma literatura de identidade, na qual os americanos glorificavam seus países, proclamavam seus recursos e louvavam seu povo. Enquanto mostravam a seus compatriotas as suas qualidades, esses autores apontavam as qualificações dos americanos para os cargos públicos e na verdade para o autogoverno. Os próprios termos instilavam confiança por repetição – pátria, país, nação, nossa América, nós americanos. Embora ainda se tratasse de um nacionalismo mais cultural do que político e não fosse incompatível com a unidade imperial, mesmo assim ele preparava as mentes dos homens para a independência, ao lembrar-lhes que a América tinha recursos independentes e as pessoas para administrá-los.

(John Lynch. *As origens da independência da América Espanhola*. Leslie Bethell: *História da América Latina*, 2001.)

Indique os principais motivos que levaram as colônias espanholas à independência.

RESOLUÇÃO

CORREÇÃO

REVISÃO

Discorra sobre a experiência socialista iniciada na Europa no período entre as duas Guerras Mundiais.

RESOLUÇÃO

CORREÇÃO

REVISÃO

Quais as principais transformações da cultura brasileira na década de 1920? Incluir neste contexto a Semana de Arte Moderna.

RESOLUÇÃO

CORREÇÃO

REVISÃO

Questão 06

Analise os textos e a charge.

O arsenal do neoliberalismo inclui o farto uso de neologismos que procuram destruir a perspectiva histórica dando novos nomes a velhos processos ou conferir respeito a pseudoconceitos. Surgem, assim, o pós-moderno, o desenvolvimento sustentável, os movimentos sociais urbanos, a exclusão social, os atores (sociais), as ongs, a globalização, o planejamento estratégico..., que procuram encobrir, ao invés de revelar, a natureza do capitalismo contemporâneo.

(www.usp.br/fau/docentes/deprojeto/ Adaptado.)



(www.jornalcomunicacao.ufpr.br/node/6782)

CERTEZAS QUE NÃO SE DESMANCHAM NO AR

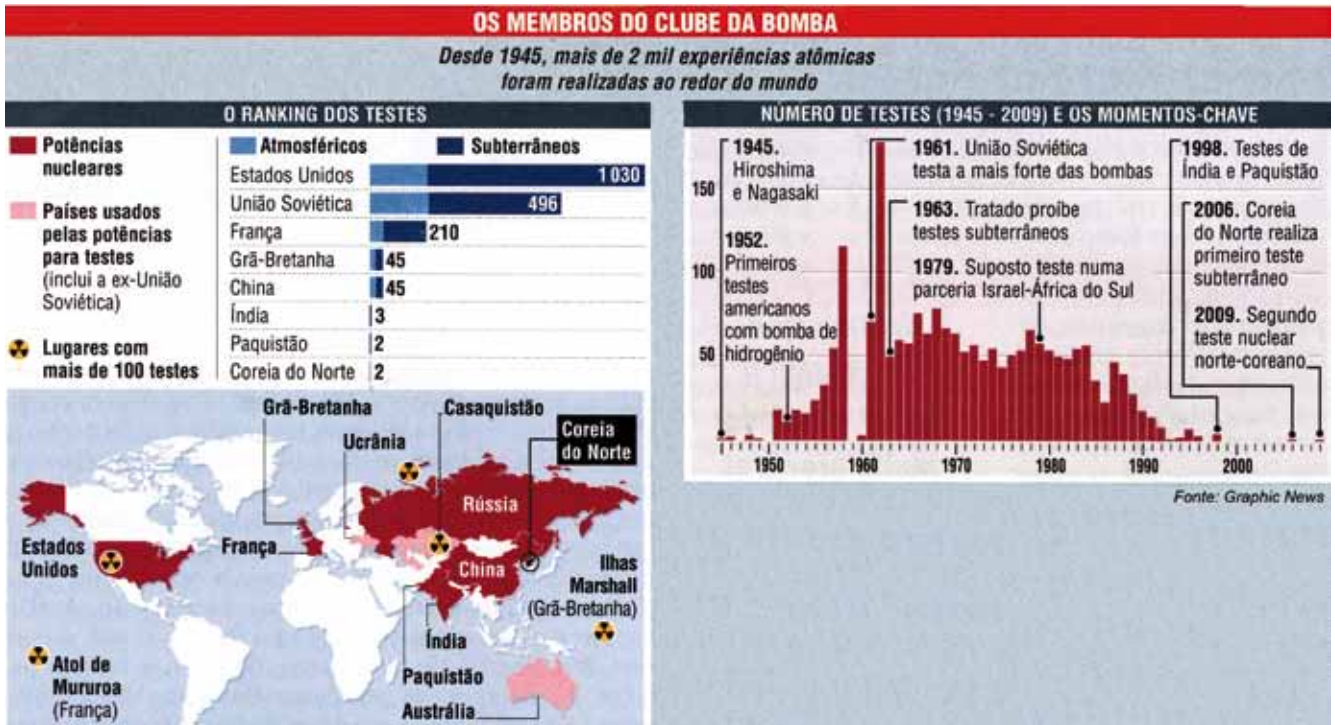
Os efeitos sociais da atual crise capitalista são pouco mencionados, especialmente nos veículos de comunicação. Existe uma distorção ideológica nesses veículos e em muitas mensagens governamentais sobre a retomada econômica, mas secundarizando o principal problema aí existente: a hecatombe social sobre milhões de trabalhadores. Não é algo automático ou “natural” a retomada econômica e o retorno dos empregos. Depois do fim das crises econômicas, analisa a OIT, entre quatro a cinco anos são necessários para a recuperação dos empregos. (...) A história social parece-nos que sempre se repete no que se refere às crises capitalistas. Por isso, a pergunta é também histórica: quem vai pagar os custos sociais dessa crise.

Luiz Fernando da Silva
(www.unesp.br/aci/debate Adaptado.)

Explicita os princípios básicos do neoliberalismo e faça afirmações que o vinculem com a crise econômica global e o contexto brasileiro.

<h2>RESOLUÇÃO</h2>	CORREÇÃO
	REVISÃO

A era nuclear tem uma dimensão estratégica e militar, mas tem, também, uma dimensão tecnológica e energética. O *Clube nuclear* foi oficializado pelo Tratado de Não-Proliferação de Armas Nucleares (TNP), de 1968. O princípio da não proliferação sofreu desafios de programas nucleares mais ou menos secretos e esse princípio, hoje, encontra-se em crise. Faça uma leitura do gráfico e do mapa:



(Revista da Semana. *Quem tem medo de Kim Jong-il?* Edição 90, Ano 3, junho de 2009.)

A partir desta leitura, mencione três características importantes do *Clube da Bomba*.

<h2>RESOLUÇÃO</h2>	CORREÇÃO
REVISÃO	

Questão 08

Os aspectos socioeconômicos são uma das formas utilizadas, atualmente, para a regionalização do planeta, embora seja uma maneira bastante genérica e simplificada. Através desses aspectos divide-se o mundo em Norte e Sul.

Analise os dados contidos na tabela.

PAÍSES (DADOS DE 2004)	POPULAÇÃO TOTAL (MILHÕES)	POPULAÇÃO URBANA (% DO TOTAL)	MORTALIDADE INFANTIL (ATÉ 1 ANO, POR MIL NASCIDOS VIVOS)	EXPECTATIVA DE VIDA AO NASCER (EM ANOS)	POPULAÇÃO URBANA COM ACESSO À ÁGUA POTÁVEL (EM %)	PRODUTO INTERNO BRUTO <i>PER CAPITA</i> (PODER REAL DE COMPRA – US\$)	ÍNDICE DE DESENVOLVIMENTO HUMANO (IDH)
MÉXICO	103,0	76	23	75	91	7.298	0,821
NÍGER	12,1	17	108	43	46	278	0,311
SUÉCIA	9,9	83	3	81	100	39.658	0,951
ARGENTINA	38,5	90	16	75	79	4.512	0,863
HOLANDA	16,3	90	4	79	100	38.333	0,947
ÍNDIA	1.103,1	28	58	64	86	714	(-) 0,500
JAPÃO	127,5	79	3	82	100	35.787	0,949
CANADÁ	32,2	81	5	80	100	35.064	0,950
BRASIL	184,1	84	18	72	89	4.297	0,792
VENEZUELA	26,5	88	17	74	83	5.026	0,784
CHILE	16,2	87	8	78	95	7.040	0,859

(Dan Smith. *Atlas da situação mundial*. Um levantamento único dos eventos correntes e das tendências globais. São Paulo: Companhia Editora Nacional, 2007.)
(Programa das Nações Unidas para o Desenvolvimento – PNUD, 2006.)

Indique o país que melhor representa o Norte e aquele que melhor representa o Sul. Justifique a sua resposta, utilizando os aspectos socioeconômicos da tabela.

RESOLUÇÃO


CORREÇÃO

REVISÃO

As charges constituem ricos instrumentos de leitura do mundo e resumem uma situação, pois falam por si só.



(www.chargesprotestantes.blogspot.com/2007/12/rio-2015.html)



(www.uol.com.br/angeli/chargeangeli.htm?imagem=290&total=335)

Identifique a temática evidenciada nas duas charges e explique três causas principais de sua ocorrência.

RESOLUÇÃO

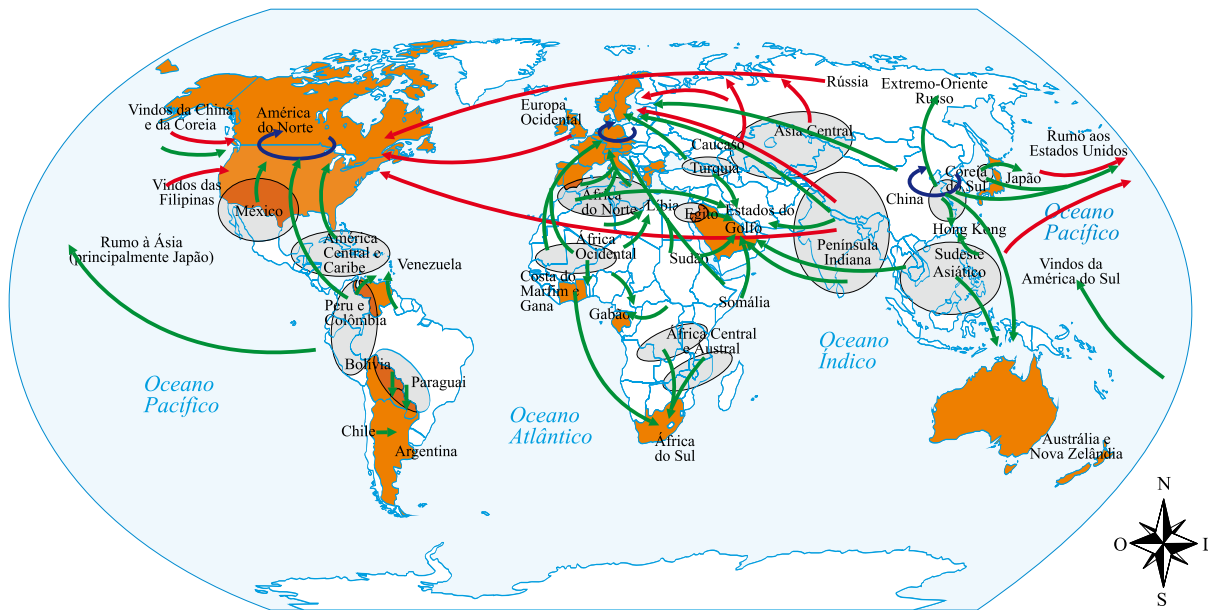
CORREÇÃO

REVISÃO

Questão 10

Os deslocamentos de pessoas pelo planeta pressupõem várias causas como: religiosas, políticas, naturais, ideológicas, psicológicas, bélicas e econômicas. Segundo a Organização das Nações Unidas (ONU), cerca de 2% da população mundial emigrou de sua terra natal para viver como imigrante em outro país.

Analise o mapa a seguir, onde estão representados fluxos migratórios.



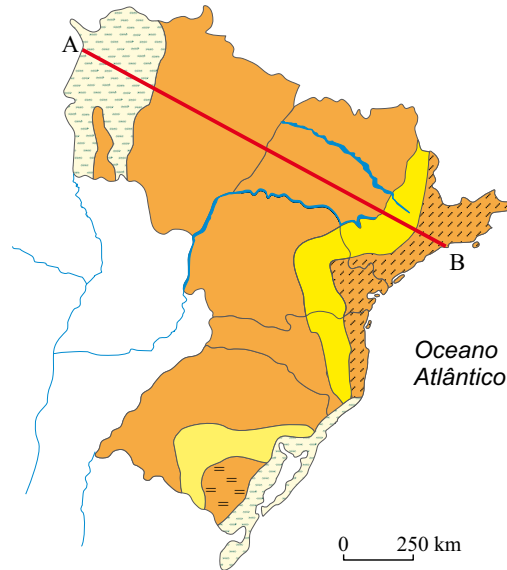
(Marcello Simão Branco, Discutindo Geografia - Imigração. Integrar ou reprimir? São Paulo, 2009. Adaptado.)

A partir da análise do mapa, mencione um fluxo importante (origem e destino) de imigrantes qualificados e outro grande fluxo causado por razões econômicas.

<h1>RESOLUÇÃO</h1>	CORREÇÃO
	REVISÃO

Questão 11

Observe o segmento de reta \overline{AB} traçado no mapa. A sua extensão é de 1.425 km e percorre o rumo Noroeste-Sudeste.



(Graça Maria Lemos Ferreira, *Atlas Geográfico*. São Paulo, Moderna, 1998. Adaptado.)

Mencione as principais bacias hidrográficas e as principais unidades de relevo atravessadas pelo segmento \overline{AB} .

RESOLUÇÃO

CORREÇÃO

REVISÃO

Questão 12

A partir da observação, no mapa, do percurso do conhecido rali Lisboa-Dacar, mencione a principal cadeia montanhosa encontrada nesse percurso, o clima e a formação vegetal predominantes e os continentes por ele atravessados.



(O Estado de S.Paulo, Caderno de Esportes, 05.01.2008.)

RESOLUÇÃO

CORREÇÃO

REVISÃO

RASCUNHO

Os rascunhos não serão considerados na correção.

NÃO ASSINE ESTA FOLHA

